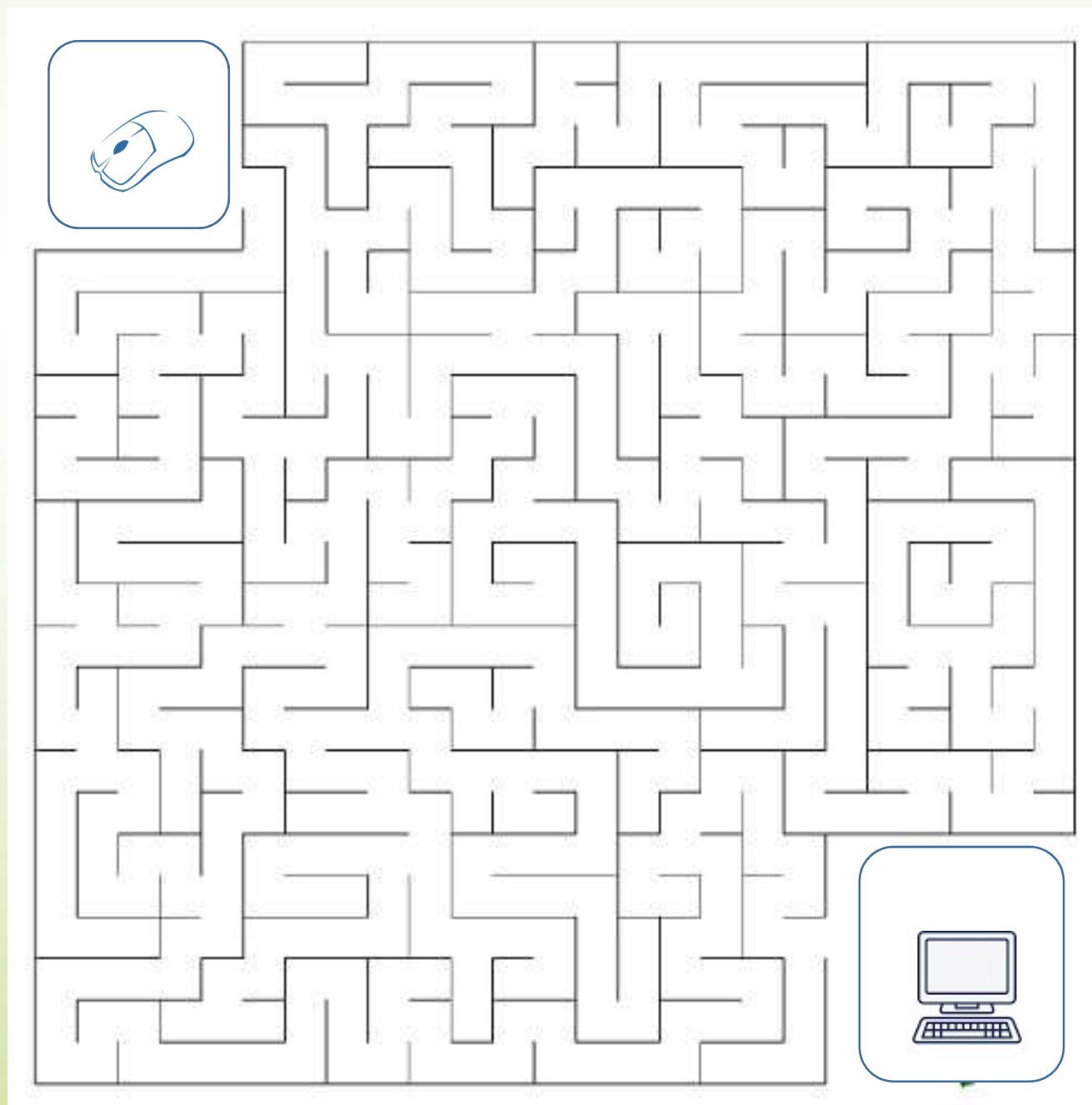


## 1.Feladat

Csatlakoztasd az egeret a számítógéphez!



## 2. Feladat

Fel kell törnöd az alábbi képernyőzárát. A következőket tudjuk:

- 4 számjegyből áll a kód
- A második számjegy 4
- Az első három jegy összege 7
- Két egyforma számjegy van
- Az utolsó két számjegy szorzata 12

Mi a kód?

---



### 3. Feladat Digitális totó

1.	Melyik fogalom írja le az internetes kommunikáció "illemszabályait"?	a) LAN b) Netikett c) Protokoll
2.	Minden weboldalnak megvan a saját címe. Ezt kell beírni a böngészőbe, ha meg akarod látogatni az oldalt.	a) URL b) NTP c) UTP
3.	Minden számítógépnek, amely az internetre csatlakozik, van egy egyedi numerikus azonosítója	a) Adatcsomag b) Protokoll c) IP cím
4.	Az internet adatátviteli csatorna kapacitásának mértékegysége.	a) Sáv szélesség b) Hálózati architektúra c) Hálózati híd
5.	Bemutatja a weboldal szerkezetét, a rajta lévő információk természetét és a köztük lévő kapcsolódási pontokat (hivatkozásokat).	a) Oldaltérkép b) Forgatókönyv c) Multimédiás prezentáció
6.	Mi az interneten keresztül történő levelezés neve?	a) Web b) UTP c) E-mail
7.	Ennek segítségével ismerik fel az online áruházak a korábbi vásárlóikat vagy az elektronikus újságok az olvasóikat, így legközelebb személyre szabott információkat tudnak nekik kínálni.	a) Javascript b) Html c) Cookie
8.	Mi az ADSL?	b) Az internetes szolgáltatók nemzetközi szervezete. c) Analóg-digitális átalakító. d) Digitális adatátviteli technológia
9.	Mikor jött létre a világ első honlapja?	a) 1979 b) 1981 c) 1991
10.	Melyik volt előbb az E-mail, vagy a honlap?	a) Honlap b) E-mail c) Egyszerre készült el
11.	Mit jelent a szelfi?	a) Mosolygós arc b) Tükröződés c) Önarckép
12.	Mi a „password”? Jelölje meg a helyes választ!	a) „Útleveél”, mellyel az egész világon internetezhet az ember. b) Úti szótár. c) Jelszó.
13.	Mivel védhetjük a számítógépes rendszereket a külső behatolástól?	a) Tűzvonal (Firing-line). b) Főfal (Main wall). c) Tűzfal (Firewall).
+1	Mi a „megabájt” rövidítése? Válaszd ki!	a) MB b) MBT c) MT



#### 4. Feladat

Írj e-mail-t a [paloc@mailbox.hu](mailto:paloc@mailbox.hu) email címre,  
melynek tartalma a mai elfogyasztott ebéded!



## 5. Feladat

A <https://www.google.hu> oldal segítségével keresd meg, hogy

- az Afrika kontinensnek hány független országa van?
- hány km-re van Makó Jeruzsálemtől?
- Ügyfélkapun keresztül vehetek-e autópálya matricát?

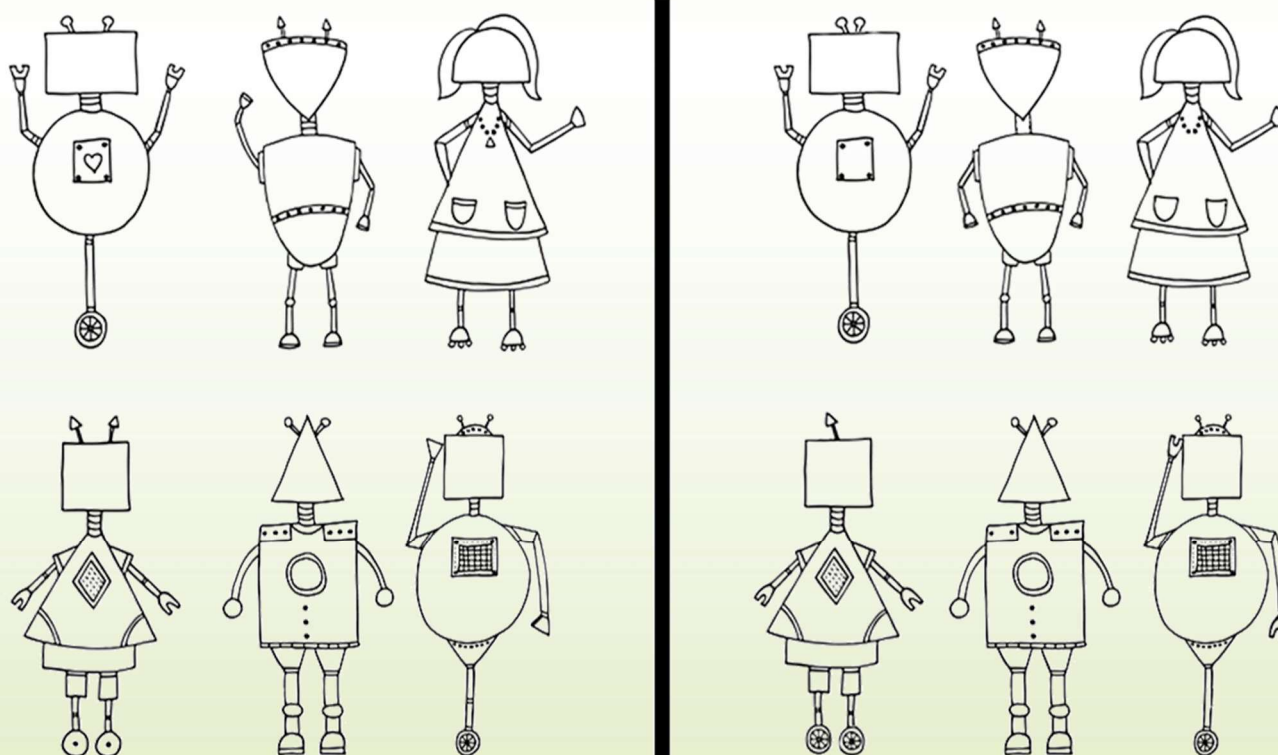






## 7. Feladat












Megtalálod a különbségeket a két kép között?





## 8. Feladat

Vicces matematika. Kitaláld a negyedik sor összegét?

	+		+		=	30
	+		+		=	18
	-		=	2		
	+		+		=	?